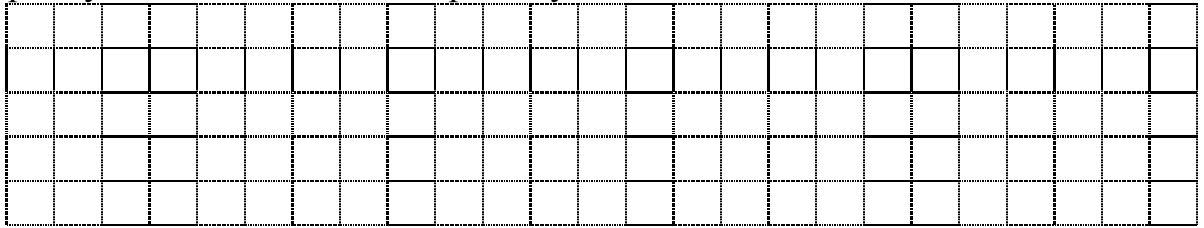
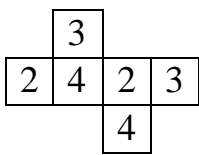


**Математика**  
**Муниципальный этап**

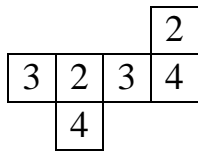
**№1.** Старые часы отстают на 30 секунд в час. Сколько времени они покажут через сутки после того, как стрелки установили на 12 часов?



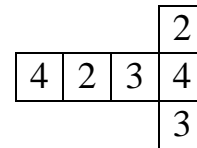
**№2.** На каждой грани бумажного кубика написана цифра 2, 3 или 4, причем цифры на противоположных гранях одинаковы. Какая из развёрток может получиться, если этот кубик разрезать по некоторым ребрам и развернуть?



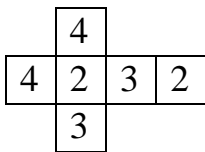
а)



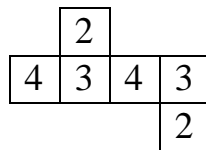
б)



в)



г)



д)

**№3.** Из 6 спичек можно сложить только один прямоугольник (он изображён на рисунке). Сколько различных прямоугольников можно сложить, используя каждый раз 14 спичек? Запиши и нарисуй.



**№4.** Бабушка печёт блинчики. К приходу её внука из школы на тарелке лежат 17 блинов. Внук вымыл руки и начал есть блины. Пока он ест 4 блина, бабушка подкладывает на тарелку 3 новых.

Внук поблагодарил бабушку и пошёл делать уроки после того как съел 24 блинчика. Сколько блинов осталось на тарелке?

